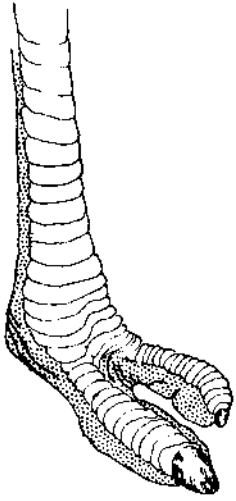


Arkusz ucznia nr 1. Ptasie nogi, ptasie dzioby

Określ, do kogo należą narysowane poniżej nogi?




a.



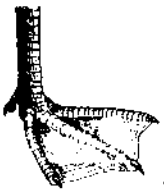
b.



c.



d.



e.




f.

Wpisz, czym odżywiają się narysowane poniżej ptaki?



Kolibier



Bekas



Jerzyk



Bielik



Pelikan



Grubodziób